

**FINAL TERM EXAMINATION  
2019-2020  
COMPUTER  
CLASS- I**

**NAME:** \_\_\_\_\_ **SECTION:** \_\_\_\_\_

**TIME: 1 Hour**

**GRADE:**

**Q1. Multiple Choice Questions. Tick the correct option.**

**a) On clicking the \_\_\_\_\_ tool, the Magic sub-toolbar appears.**

1. shapes

2. magic

3. Square

**b) \_\_\_\_\_ keys helps us to type letters , poems and stories.**

1. Shift

2. Caps lock

3. Alphabet

**c) Paint is a program that is used for:**

1. Calculation

2. Writing letters

3. Making

drawings

**Q2. Write T for True and F for False.**

a. Notepad is used to type text. \_\_\_\_\_

b. The alphabet keys are divided into two rows. \_\_\_\_\_

c. The New tool is used to open a new drawing window. \_\_\_\_\_

d. You cannot change the size of text. \_\_\_\_\_

**Q3. Fill in the blanks:-**

a) You can select colours from the \_\_\_\_\_

b) Tux paint is a \_\_\_\_\_ program.

c) \_\_\_\_\_ shows the name of the text file.

d) The \_\_\_\_\_ has different menus.

**Q4. Unscramble the following words.**

a) ASVE

\_\_\_\_\_

b) TEREN

\_\_\_\_\_



c) FLIE

\_\_\_\_\_





d) INTPA

\_\_\_\_\_

**Q5. Match the following.**

COLUMN "A"	COLUMN "B"
1. 	a. Click <b>Exit</b> from the <b>File</b> menu.
2. Spacebar	b. Moves the cursor to the next line
3. 	c. Adds blank space
4. Enter key	d. Rectangle tool
5. To close Notepad	e. Triangle tool

**Q6. Identify the image below and write its name :-**

<u>KEY</u>	<u>NAME</u>
	
	
	
	

**Q7. Answer the following:-**

**a) How many alphabet keys are there on a keyboard?**

---



---

**b) What is Tux paint?**

---



---

**Q8. Draw any two parts of computer.**

**CLASS- Two**

**Computer**

<b>S.NO.</b>	<b>TOPICS</b>	<b>MARKS</b>
1	Tick the correct option	3
2	True- False	4
3	Fill in the blanks	4
4	Unscramble the words	4
5	Match the following	5
6	Identify the images	4
7	Answer the following	2
8	Draw any two parts of computer	4
	<b>Total</b>	<b>30</b>

Final Term Examination (2019-20)

English (Language)

Class – One

Name - \_\_\_\_\_ Section - \_\_\_\_\_ Grade - \_\_\_\_\_

Instructions:

\*Read the question paper carefully.

\*Write neat and clean handwriting.

\*All questions are compulsory.

Section – A (Reading)

1. Read this story and Tick ( ) the correct answer:

It is summer. A crow feels very thirsty. He flies to find water. He sees a pot near a house. He flies down to the pot. There is very little water in it. He cannot reach the water. The crow thinks and thinks. Suddenly he has an idea. He takes some stones and put them one by one in the pot. The water rises up. The crow drinks the water and flies away.

A. Fill in the blanks.

1. A crow is very \_\_\_\_\_
2. He finds a \_\_\_\_\_ near a house.

B. Tick ( ) the correct answer.

1. Why does the crow want water?

- a) He is thirsty                       b) He is hungry

2. What does crow find near a house?

- a) glass                       b) pot                       c) bottle

3. The story is about a .....

- a) bird                       b) parrot                       c) crow

4. Why can't the crow drink water?

- a) There is very little water in the pot                       b) There is no water in the pot

## Section – B (Writing)

2. Look at the picture and complete the sentences with the help of given words:



Librarian    story    library    big    borrow

- a. This place is \_\_\_\_\_ .
- b. There are a lot of \_\_\_\_\_ books in the library.
- c. There is a \_\_\_\_\_ in the library.
- d. My school has a very \_\_\_\_\_ library.
- e. Students go to library to \_\_\_\_\_ books and study.







**1. Rewrite these sentences with capital letters. Use a full stop or a question mark at the end.**

1. maya ran a race

.....

2. the peacock has a pretty tail

.....

3. who is the king of the jungle

.....

4. we went to zoo

.....

**2. Join these sentences using 'and'.**

a. I met my mother/father.

\_\_\_\_\_

b. Rahul plays football/cricket.

\_\_\_\_\_

c. I eat vegetables/fruits.

\_\_\_\_\_

d. Manu/Mili went to the market.

\_\_\_\_\_

e. Raju went to the fair/had fun.

\_\_\_\_\_



**Q3. Unscramble the words to answer the following questions.**

1. It is the national animal of India. GERTI \_\_\_\_\_
2. This festival in Kerela is celebrated with snake boat races. NAMO  
\_\_\_\_\_
3. The Indian flag is also known as RANGATI \_\_\_\_\_
4. In the film FROZEN, which character has the power to turn things into ice? \_\_\_\_\_

**Q4. Match the flags with countries:-**



**India**



**United Kingdom**



**Japan**



**Singapore**

**Q5. Identify the following pictures by writing your answers in the blanks**



**Q6. Give one word each:-**

- a. By what name are camels also known? \_\_\_\_\_
- b. Largest country in the world? \_\_\_\_\_
- c. Which of the following states is famous for litti chokha? \_\_\_\_\_
- d. When we ask for something, we say \_\_\_\_\_
- e. Which part of the computer is also known as its brain? \_\_\_\_\_
- f. The sound which a cow makes is called \_\_\_\_\_

**BLUE PRINT**

**CLASS- One**

**General Knowledge**

<b>S.NO.</b>	<b>TOPICS</b>	<b>MARKS</b>
1	Tick the correct option	4
2	Give two examples	8
3	Unscramble words	4
4	Match the following	4
5	Identify the pictures	4
6	Give one word	6
	<b>Total</b>	<b>30</b>

**Final Term Examination  
2019-2020  
Mathematics  
Class – One**

Name \_\_\_\_\_ Roll No. \_\_\_\_\_ Section \_\_\_\_\_ Grade \_\_\_\_\_

**General instructions:-**

- All questions are compulsory.
- Read all the questions carefully.
- Write in neat and clean hand writing.

**1. Match the following and write in ones and tens.**

a. <table border="1" style="display: inline-table; padding: 5px;"><tr><td>6 tens and 7 ones</td></tr></table>	6 tens and 7 ones	<table border="1" style="display: inline-table; padding: 5px;"><tr><td style="transform: rotate(45deg);">24</td></tr></table>	24	<table border="1" style="border-collapse: collapse;"><tr><td style="padding: 5px;">T</td><td style="padding: 5px;">O</td></tr><tr><td style="height: 30px;"></td><td style="height: 30px;"></td></tr><tr><td style="height: 30px;"></td><td style="height: 30px;"></td></tr><tr><td style="height: 30px;"></td><td style="height: 30px;"></td></tr><tr><td style="height: 30px;"></td><td style="height: 30px;"></td></tr><tr><td style="height: 30px;"></td><td style="height: 30px;"></td></tr></table>	T	O										
6 tens and 7 ones																
24																
T	O															
b. <table border="1" style="display: inline-table; padding: 5px;"><tr><td>8 tens and 5 ones</td></tr></table>	8 tens and 5 ones	<table border="1" style="display: inline-table; padding: 5px;"><tr><td style="transform: rotate(45deg);">99</td></tr></table>	99													
8 tens and 5 ones																
99																
c. <table border="1" style="display: inline-table; padding: 5px;"><tr><td>2 tens and 4 ones</td></tr></table>	2 tens and 4 ones	<table border="1" style="display: inline-table; padding: 5px;"><tr><td style="transform: rotate(45deg);">67</td></tr></table>	67													
2 tens and 4 ones																
67																
d. <table border="1" style="display: inline-table; padding: 5px;"><tr><td>9 tens and 9 ones</td></tr></table>	9 tens and 9 ones	<table border="1" style="display: inline-table; padding: 5px;"><tr><td style="transform: rotate(45deg);">77</td></tr></table>	77													
9 tens and 9 ones																
77																
e. <table border="1" style="display: inline-table; padding: 5px;"><tr><td>5 tens and 3 ones</td></tr></table>	5 tens and 3 ones	<table border="1" style="display: inline-table; padding: 5px;"><tr><td style="transform: rotate(45deg);">85</td></tr></table>	85													
5 tens and 3 ones																
85																
f. <table border="1" style="display: inline-table; padding: 5px;"><tr><td>7 tens and 7 ones</td></tr></table>	7 tens and 7 ones	<table border="1" style="display: inline-table; padding: 5px;"><tr><td style="transform: rotate(45deg);">53</td></tr></table>	53													
7 tens and 7 ones																
53																

**2. Count backward and write the missing numbers.**

100		98			95	94			91
-----	--	----	--	--	----	----	--	--	----

60		58		56			53		
----	--	----	--	----	--	--	----	--	--

3. Write the following numbers in expanded form.

Number	Tens and ones	Expanded form
69	<input type="text"/> Tens and <input type="text"/> ones	<input type="text"/> + <input type="text"/>
82	<input type="text"/> Tens and <input type="text"/> ones	<input type="text"/> + <input type="text"/>
91	<input type="text"/> Tens and <input type="text"/> ones	<input type="text"/> + <input type="text"/>
73	<input type="text"/> Tens and <input type="text"/> ones	<input type="text"/> + <input type="text"/>

4. Arrange the following numbers in ascending order.

86	74	89	78

<sup>b.</sup> 63	59	100	60

5. Arrange the following numbers in descending order.

97	94	90	99

45	64	59	18

6. Arrange vertically and add also write the number name of the answer.

a. 52 and 30

T	O

Ans- \_\_\_\_\_

b. 62 and 33

T	O

Ans- \_\_\_\_\_

c. 70 and 15

T	O

Ans- \_\_\_\_\_

7. Arrange vertically and subtract also write the after number of the answer.

b. 89 - 52

T	O

Ans- \_\_\_\_\_

b. 75 - 25

T	O

Ans- \_\_\_\_\_

c. 68 - 34

T	O

Ans- \_\_\_\_\_

8. Match the multiplication facts.

3 x 2

4 x 7

5 x 3

10 x 6

3 x 4

2 x 8

15

12

28

16

6

60



**9. Word problems.**


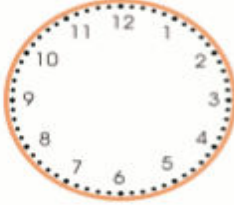
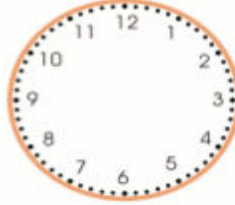
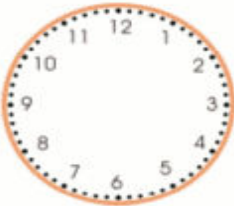
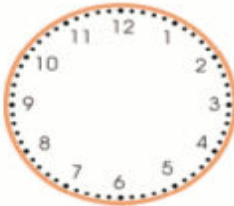
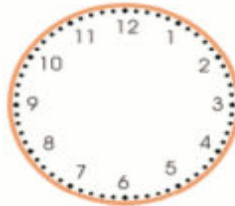
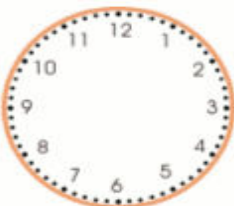
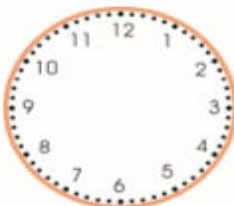
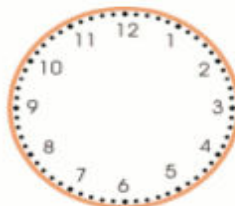
**1. There were 37 birds on a tree. 15 birds flew away. How many are left on the tree?**

	T	O
Number of birds on a tree		
Number of birds flew away		
Number of birds left on the tree		

**2. A shopkeeper sold 30 dolls and 21 teddies. How many toys did he sell in all?**

	T	O
Number of dolls sold		
Number of teddies sold		
Total toys sell		

**10. Draw the two hands to show the given time in each of the following clocks.**

<p><b>1 a.</b></p>  <p>7:00</p>	<p><b>1 b.</b></p>  <p>6:00</p>	<p><b>1 c.</b></p>  <p>4:00</p>
<p><b>2 a.</b></p>  <p>9:00</p>	<p><b>2 b.</b></p>  <p>8:00</p>	<p><b>2 c.</b></p>  <p>3:00</p>
<p><b>3 a.</b></p>  <p>1:00</p>	<p><b>3 b.</b></p>  <p>12:00</p>	<p><b>3 c.</b></p>  <p>5:00</p>

**11. Answer the following questions.**

Captain is having a yard sale of some of his toys.

soft toy cat	basketball	toy car	tractor
			
20	15	10	8

- 1) Which toy is the cheapest? \_\_\_\_\_
- 2) Which toy is the most expensive? \_\_\_\_\_
- 3) How much does the cat and basketball cost? \_\_\_\_\_
- 4) How much does the tractor and car cost? \_\_\_\_\_
- 5) Which two toys could I buy for exactly 25? \_\_\_\_\_

**12. Tick (v) the correct options.**

a. Which of the following is a rectangle?









b. A square has \_\_\_\_\_ straight lines.

1

2

4

c. Which of the following slides?








d.  has \_\_\_\_\_ straight lines.

4

6

5



**Blue Print**

**Final term**

**Class – One**

**Subject – Mathematics**

S. No.	Topic	Marks
1.	Numbers	9
2.	Addition	6
3.	Subtraction	6
4.	Multiplication	6
5.	Measurement	3
6.	Money	5
7.	Time	6
8.	Shapes	4
9.	Mental sums	5
	Total	50

**Final Term Examination 2019-20**

**Science**

**Class – One**

Name \_\_\_\_\_ Roll No. \_\_\_\_\_ Section \_\_\_\_\_ Grade \_\_\_\_\_

**General instructions:-**

- All questions are compulsory.
- Read all the questions carefully.
- Write in neat and clean hand writing.

Q1. Answer the following questions in short :( any seven)

Q1. What do you do when you feel tired?

Ans \_\_\_\_\_

\_\_\_\_\_

Q2. What is weather?

Ans \_\_\_\_\_

\_\_\_\_\_

Q3. What should you do before crossing the road?

Ans \_\_\_\_\_

\_\_\_\_\_

Q4. What should we do to keep our teeth clean?

Ans \_\_\_\_\_

\_\_\_\_\_

Q5. Why is the Sun important to us?

Ans \_\_\_\_\_

\_\_\_\_\_

Q6. What is a rocket?

Ans \_\_\_\_\_

\_\_\_\_\_

Q7. Who is an astronaut?

Ans \_\_\_\_\_

\_\_\_\_\_

Q8. What happens on a windy day?

Ans \_\_\_\_\_

\_\_\_\_\_

Q2. Fill in the blanks

1. After the sunset, it is \_\_\_\_\_.
2. Sunita Williams lived for about \_\_\_\_\_ months in space.
3. Rain on a cold day makes the day even \_\_\_\_\_.
4. We must always keep ourselves \_\_\_\_\_.
5. \_\_\_\_\_ makes our body healthy and strong.

Q3. Write true (T) or false(F) for the following statements:

1. Swimming is a good exercise \_\_\_\_\_
2. Fish live on land \_\_\_\_\_
3. Zebra eats only plants \_\_\_\_\_
4. We cannot have fun if we are healthy \_\_\_\_\_
5. We must use the Zebra crossing to cross the road \_\_\_\_\_

Q4. Match the column:

A	B
1. Dogs	I. Heat and light.
2. Sun	II. Wear raincoat and gumboots.
3. Rainy day	III. Healthy body.
4. Clean body	IV. First Indian to travel to space.
5. Rakesh Sharma	V. Lives in kennel.

Q5. Name these:

1. Two exercise

\_\_\_\_\_ , \_\_\_\_\_

2. Wild animals

\_\_\_\_\_ , \_\_\_\_\_

3. Two insects

\_\_\_\_\_ , \_\_\_\_\_

4. Two weather

\_\_\_\_\_ , \_\_\_\_\_

5. Shapes of the moon

\_\_\_\_\_ , \_\_\_\_\_

Q6. Complete the following:

1. Most birds can fly. Some birds cannot \_\_\_\_\_

2. The Sun does not shine brightly on \_\_\_\_\_

3. In mountains we can see a \_\_\_\_\_

4. Stars look small because they are \_\_\_\_\_

5. A spacesuit that allow someone to move \_\_\_\_\_

Q7. Complete the table:

Animals	Homes
Birds	
	Web
Rabbit	
	Hive
Cow	
	Stable

Q8. Draw and label: (any one)

1. Traffic light
2. Clothes we wear in summer season
3. Natural source of light





**BLUE PRINT**

**CLASS- ONE**

**Science**

<b>S.NO.</b>	<b>TOPICS</b>	<b>MARKS</b>
1	Answer the following	14
2	Fill in the blanks	5
3	True /False	5
4	Match the following	5
5	Name these	5
6	Complete the following.	5
7	Complete the table	6
8	Draw and label.	5
	<b>Total</b>	<b>50</b>

वार्षिक परीक्षा (2019 – 20)

कक्षा – पहली

अंक योजना

विषय – हिंदी

क्र.सं	प्रश्नों के प्रकार	अंक
1	भाग (क) व्याकरण अपठित गद्यांश	5
2	चित्र देखकर कहानी लेखन	5
3	अनुच्छेद लेखन	5
4	समानार्थी शब्द	3
5	विलोम शब्द	2.5
6	क्रिया	1.5
6	वचन	2.5
7	भाग – साहित्य श्रुतलेख	6
8	वाक्य बनाओ	5
9	वाक्य पूरे करो	4
10	प्रश्न / उत्तर	7.5

11 किसने किससे कहा 3

--	--	--

वार्षिक परीक्षा  
(2019-2020)  
विषय - हिन्दी (व्याकरण)  
कक्षा – पहली

समय : 2घंटे

नाम \_\_\_\_\_ अनुक्रमांक- \_\_\_\_\_ वर्ग - \_\_\_\_\_ ग्रेड -

सभी प्रश्न अनिवार्य हैं।

- प्रश्न पत्र को चार भागों में विभाजित किया गया है – भाग क ( पठन ), भाग ख (लेखन), भाग ग (व्याकरण)

### भाग क ( पठन )

प्र. 1 दिए गए गद्यांश को ध्यानपूर्वक पढ़कर पूछे गए प्रश्नों के सही उत्तर ( ) का निशान लगाओ –  
सीता अपनी दोस्त मीनू के घर गई | वहाँ सदाबहार के पौधों में लगे गुलाबी और सफ़ेद रंग के फूल उसे बहुत अच्छे लगे | उसने मीनू से उन फूलों के बारे में पूछा , “तुमने इन्हे कैसे उगाया ?” मीनू ने कहा , “ अरे ! ये तो बड़ी आसानी से लग जाते हैं | बस , नियम से पानी देते रहना | घर आते ही सीता ने तीन गमलों में पौधे लगा दिए | फिर पौधों में पानी लाकर डाला | कुछ दिन बाद सीता ने देखा कि पौधों में सुंदर – सुंदर रंग – बिरंगे फूल खिल रहे हैं | इतने सुंदर फूल देखकर सब बहुत खुश हुए |

- सही उत्तर पर ( ) का निशान लगाओ |

क) सीता की दोस्त का क्या नाम था ?

मीना  का

ख) सदाबहार के फूल किस रंग के थे ?

गुलाबी और सफ़ेद  और नीले पीले और स

ग) सीता ने कितने गमलों में पौधे लगाए ?

दो  सात




घ) रंग – बिरंगे फूल खिले देखकर सब क्या हुए ?

खुश  नाराज़



प्र.3 चित्रों की सहायता से वाक्यों के खाली स्थान भरिए और कहानी पूरी कीजिए –

एक  पर एक  अपनी पत्नी के साथ रहता था |

एक  हर बार उनके  खा जाता था |


 अपनी मित्र  के पास गया |  ने उसे उपाय

बताया | कौए ने  का  उठाकर 

 के  में डाल दिया |



को निकालने के लिए



ने



को मार डाला | अब



और उसकी पत्नी बहुत खुश थे |

प्र.3 सेब पर कुछ वाक्य लिखों -

---



---



---



---




---



---



---



### भाग ग ( व्याकरण )

प्र.4 दिए गए चित्रों के दो - दो समानार्थी शब्द लिखों -



\_\_\_\_\_



\_\_\_\_\_



\_\_\_\_\_

\_\_\_\_\_

प्र.5 चित्र देखकर लिखिए कि कौन - सा कार्य हो रहा है -



मोर \_\_\_\_\_ रहा है | माधव \_\_\_\_\_ रहा है | \_\_\_\_\_ सीता \_\_\_\_\_ रही है | \_\_\_\_\_

प्र.6 उलटे अर्थ का मिलान कीजिए।

आगे	रात
सफ़ेद	पीछे
दिन	काला
आज	शाम
सुबह	कल

प्र. 7 एक से अनेक बनाओ –

केला	_____
जूता	_____
लड़की	_____
रोटी	_____
घोड़ा	_____

वार्षिक परीक्षा

(2019-2020)

विषय - हिन्दी (साहित्य)

कक्षा – पहली

समय : 2घंटे

नाम \_\_\_\_\_ अनुक्रमांक- \_\_\_\_\_ वर्ग - \_\_\_\_\_ ग्रेड -

सभी प्रश्न अनिवार्य हैं।

प्र.1 श्रुतलेख :

_____	_____	_____
_____	_____	_____

प्र.2 वाक्य बनाओ –

बंदर – \_\_\_\_\_

गिलास – \_\_\_\_\_

किताब -

माला -

तरबूज -

प्र.3 सही शब्द लिखकर वाक्य पूरे करो -

क) आसमान में - पतंगें उड़ रही थी।

ख) पेड़ पर बहुत - से बैठे थे।

ग) विभु - में रहते थे।

घ) विभु बहुत - थे।

प्र.4 प्रश्नों के उत्तर दो -

क) मानव और रत्ना क्यों खुश थे ?

उ०

ख) मेला कहाँ लगा था ?

उ०

ग) आँचल ने क्या खरीदा ?

उ०

घ) विभु कहाँ रहते थे ?

उ०

ड) मेला देखने कैसे गए ?

प्र०5 किसने किससे कहा ?

वाक्य	किसने कहा	किससे कहा
रुक जाओ ! यहाँ शिकार करना मना है।		
लो यह फल खाओ   आज सुबह बगीचे से लाया हूँ।		
भैया सड़क पर वाहन चलाते समय फ़ोन पर बात नहीं करते हैं।		

वार्षिक परीक्षा (2019 – 20)

कक्षा – दूसरी

अंक योजना

विषय – हिंदी

क्र.सं	प्रश्नों के प्रकार	अंक
--------	--------------------	-----

1	भाग (क) व्याकरण अपठित गद्यांश	5
2	अनुच्छेद लेखन	5
3	चित्र वर्णन	5
4	समानार्थी शब्द	4
5	लिंग	2
6	वचन	2
7	विलोम	2.5
8	दिन / महीने	2
9	साहित्य - पठित गद्यांश	3
10	शब्दार्थ	2
11	प्रश्न / उत्तर	7.5
12	वाक्य बनाओ	4
13	पंक्तियाँ पूरी करो	3
14	किसने किससे कहा	3



वार्षिक परीक्षा  
(2019-2020)  
विषय - हिन्दी  
कक्षा – दूसरी

नाम \_\_\_\_\_ अनुक्रमांक- \_\_\_\_\_ वर्ग - \_\_\_\_\_ ग्रेड - \_\_\_\_\_

सभी प्रश्न अनिवार्य हैं।

- प्रश्न पत्र को तीन भागों में विभाजित किया गया है – भाग क ( पठन ), भाग ख (लेखन) , भाग ग (व्याकरण),

भाग क ( पठन )

प्र. 1 दिए गए गद्यांश को ध्यानपूर्वक पढ़कर पूछे गए प्रश्नों के सही उत्तर ( ) का निशान लगाओ –

- सही उत्तर पर ( ✓ ) का निशान लगाओ।

रोहन दादा जी की उँगली पकड़े पार्क की ओर जा रहा था। दोनों रोज सुबह सैर करने जाते थे। पार्क में रोहन को एक नन्हा पौधा दिखाई दिया। उसे लगा जैसे पौधा अपने पत्ते हिला – हिलाकर उसका स्वागत कर रहा हो।

“कुछ दिन पहले तो तुम यहाँ पर नहीं थे !” रोहन ने पौधे से कहा।

अरे, यह क्या ? पौधा बोल पड़ा , “हाँ, पहले मैं बीज के अंदर था। माली काका ने मेरे बीज को धरती के अंदर गाड़ दिया। इस धरती की गोद में मेरा जन्म हुआ।”

क) रोहन किसके साथ पार्क गया था ?

पिता जी के साथ  दादा जी के साथ  नाना जी के साथ

ख) माली काका ने बीज का क्या किया ?

बीज को फेंक दिया  तालाब में डाल दिया  धरती में गाड़ दिया

ग) पार्क में रोहन को क्या दिखाई दिया ?

नन्हा पौधा  बड़ा – सा पेड़  बड़ा – सा तालाब

घ) ‘सुबह’ के उलटे अर्थ वाला शब्द है ?

शाम  सवेरा

प्र.2 अनुच्छेद लिखों –

वसंत ऋतु

## मेरे दादा जी

---

---

---

---

---

---


---

---

---

---

प्र.3 चित्र देखकर कुछ वाक्य लिखों



---

---

---

---

---

---

---

---

---

---

प्र.4 रेखांकित शब्दों के लिंग बदलकर वाक्य पूरा कीजिए –

क) माली और \_\_\_\_\_ फूलों की माला बना रहे हैं।

ख) बिल्ली को देखकर चूहा और \_\_\_\_\_ भाग गए।

ग) किसान के पास बैल और \_\_\_\_\_ की जोड़ी है।

घ) कबूतर और \_\_\_\_\_ पेड़ पर बैठे हैं।

प्र०5 विलोम शब्दों का सही मिलान कीजिए -

सस्ता                      जीत

हार                        महँगा

अमीर                      झूठ

भारी                        गरीब

सच                         हल्का

प्र०6 चित्र देखकर दो – दो समानार्थी शब्द लिखो :



\_\_\_\_\_

\_\_\_\_\_



\_\_\_\_\_

\_\_\_\_\_



\_\_\_\_\_

\_\_\_\_\_



\_\_\_\_\_

\_\_\_\_\_

प्र०7 वचन बदलकर लिखो।

चूहा - \_\_\_\_\_

माला - \_\_\_\_\_

बकरी - \_\_\_\_\_

आँख - \_\_\_\_\_

प्र०8 दिए गए वाक्यों में सही ( ✓ ) अथवा गलत ( x ) का निशान लगाइए –

क) बुधवार के बाद सोमवार आता है।

ख) अप्रैल से पहले मार्च आता है।

ग) एक वर्ष में दस महीने होते हैं।

घ) साल का आखरी महीना दिसंबर है।

वार्षिक परीक्षा  
(2019-2020)  
विषय - हिन्दी  
कक्षा – दूसरी

नाम \_\_\_\_\_ अनुक्रमांक- \_\_\_\_\_ वर्ग - \_\_\_\_\_ ग्रेड - \_\_\_\_\_

सभी प्रश्न अनिवार्य हैं।

भाग (घ) साहित्य

प्र.1 दिए गए गद्यांश को ध्यानपूर्वक पढ़कर पूछे गए प्रश्नों के सही उत्तर दीजिए।

शेरुदा बहुत बड़ा शेर था | वह जंगल का राजा था | वह बहुत आलसी हो गया था | मेहनत नहीं करना चाहता था | इसी कारण भोजन के लिए शिकार भी नहीं करता था | जंगल के सभी पशु – पक्षी उसके लिए भोजन लेकर आते थे | एक छोटा खरगोश कूदता हुआ आया | “ शेरुदा, एक लाल गाजर खाओगे ? खेत से अभी निकालकर लाया हूँ,” उसने पूछा |

क) शेरुदा कौन था ?

उ० \_\_\_\_\_

ख) शेरुदा के लिए भोजन कौन लाते थे ?

उ० \_\_\_\_\_

ग) शेरुदा के लिए गाजर कौन लाया ?

उ० \_\_\_\_\_

प्र०2 शब्दों के अर्थ लिखो –

नीड़ - \_\_\_\_\_

भोजन - \_\_\_\_\_

ऋतु - \_\_\_\_\_

काया - \_\_\_\_\_

प्र०3 निम्न प्रश्नों के उत्तर दीजिए –

क) मिनी को किसने कहानी सुनाई ?

उ० \_\_\_\_\_

ख) बुलबुल ने घोंसला कहाँ बनाया ?

उ० \_\_\_\_\_

ग) अपना थैला साथ में लेकर जाना क्यों ज़रूरी है ?

उ० \_\_\_\_\_  
\_\_\_\_\_

घ) शेरुदा शिकार क्यों नहीं करता था ?

उ० \_\_\_\_\_  
\_\_\_\_\_

ड) बसंत ऋतु में धरती पर क्या - क्या दिखाई देता है ?

उ० \_\_\_\_\_  
\_\_\_\_\_

प्र०4 वाक्य बनाओ -

शिकार - \_\_\_\_\_

आलसी - \_\_\_\_\_

चिड़िया - \_\_\_\_\_

मनपसंद - \_\_\_\_\_

प्र०13 कविता की पंक्तियाँ पूरी करो -

\_\_\_\_\_ के उगते ही चिड़िया

मीठा \_\_\_\_\_ सुनाती है

चूँ - चूँ - - बोल - बोलकर

सबको \_\_\_\_\_ कर जाती है।

प्र०14 किसने किससे कहा ?

वाक्य	किसने कहा	किससे कहा
“ क्या यह आम खाओगे ? बड़ा मीठा और रसीला है ” ।		

ये लो थैला और सामान की सूची	
तुम मांसाहारी तो हो , लेकिन आज फल – सब्जियाँ भी खाकर देखो	